

بسمه تعالی اداره کل آموزش و پرورش شهرستان رفسنجان	نام درس: مطالعات اجتماعی پایه: نهم نام و نام خانوادگی:
نوبت امتحان: ترم اول تاریخ امتحان: ۱۳۹۱ نام مدرسه:	الف) در جاهای خالی کلمات مناسب بنویسید. (۳ نمره) ۱- به علت ..... و ..... مطالعه درباره اقیانوس ها دشوار است. ۲- یکی از عوامل خارجی نابرابری در جهان ..... و یکی از عوامل داخلی نابرابری در جهان ..... است. ۳- دلایل مهاجرت اجباری عبارتند از ..... و ..... ۴- دو منبع مهم درآمد حکومت صفوی ..... و ..... بودند. ۵- به سال ۳۶۵ روزه سال ..... و به سال ۳۶۶ روزه سال ..... می گویند. ۶- دو مورد از عوامل تخریب زیستگاهها عبارتند از ..... و .....
ب) شخصیت شناسی (۱/۵ نمره) ۱- او آخرین فرمانروای زندیه بود؟ ۲- او پس از تاج گذاری، مذهب شیعه را رسمی کرد؟ ۳- نهضت تنباکو در زمان کدام شاه قاجار بود؟ ۴- سقوط حکومت صفوی در زمان او اتفاق افتاد؟ ۵- او با سرکوب کردن افغان ها و نیروهای روسیه و عثمانی بر تخت شاهی نشست؟ ۶- عهد نامه ترکمان چای در زمان کدام شاه قاجار بسته شد؟	
ج) به سوالات زیر پاسخ کوتاه دهید؟ (۱/۵ نمره) ۱- به بخش خارجی کره زمین که حالت جامد دارد چه می گویند؟ ۲- عمیق ترین و پهناور ترین اقیانوس کره زمین چیست؟ ۳- پایین ترین لایه هوا کره که نزدیک به سطح زمین است چه نام دارد؟ ۴- هدف، استعماری روسیه از حمله به ایران چه بود؟ ۵- مهم ترین طرفداران خانقاه شیخ صفی الدین اردبیلی چه کسانی بود؟ ۶- اگر درصد رشد جمعیت به کمتر از صفر برسد به آن چه می گویند؟	
د) صحیح یا غلط بودن جملات مشخص کنید. (۱/۵) ۱- کشتی رانی در کارون یکی از امتیازهای واگذار شده به روس ها در زمان قاجار بود؟ <input type="checkbox"/> ص <input type="checkbox"/> غ ۲- جنگ چالدران میان صفویان و ازبک ها رخ داد. <input type="checkbox"/> ص <input type="checkbox"/> غ ۳- مدار مبدأ و نصف النهار مبدأ صفر درجه هستند. <input type="checkbox"/> ص <input type="checkbox"/> غ ۴- در انقلاب زمستانی روزها بلندتر از شب هاست. <input type="checkbox"/> ص <input type="checkbox"/> غ ۵- هوا همیشه از جایی که فشار کمتری دارد به جایی که فشار بیشتری دارد در جریان است. <input type="checkbox"/> ص <input type="checkbox"/> غ ۶- زمین چهارمین سیاره منظومه خورشیدی است؟ <input type="checkbox"/> ص <input type="checkbox"/> غ	
و) اگر لندن ساعت ۱۱ صبح باشد، ساعت نصف النهار ۶۰ درجه شرقی و ۹۰ درجه غربی چند است؟ (۰/۵ نمره)	

ی) به سوالات زیر پاسخ کامل دهید. ۶/۵ نمره  
۱-عباس میرزا برای پیشرفت ایران چه اقداماتی را انجام داد؟ ۵/۵

۲- دو مورد از اقدامات امیرکبیر را بنویسید؟ ۵/۵

۳- دو عامل گسترش تجارت در دوره صفوی را بیان کنید؟ ۵/۵

۴- یک عامل طبیعی در دفع جمعیت و یک عامل انسانی در جذب جمعیت بنویسید؟ ۵/۵ نمره

۵- دو عامل موثر در متنوع بودن آب و هوای جهان را بیان کنید؟ ۵/۵ نمره

۶- دو حرکت انتقالی و وضعی زمین را تعریف کرده و برای هر کدام یک نتیجه بنویسید؟ ۱ نمره

۷- در عهدنامه پاریس چه بخش هایی از ایران جدا شد؟ ۵/۵

۸- دو مورد از اقدامات شاه عباس صفوی را بنویسید؟ ۵/۵

۹- نابرابری جهانی به چه معناست؟ ۵/۵

۱۰- وظیفه وزیران و فرمانده های سپاه حکومت صفوی چه بود؟ ۵/۵ نمره

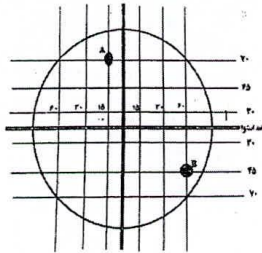
۱۱- چگونه می توان از منابع طبیعی استفاده صحیح و خردمندانه کرد؟ ۱ نمره

# جزوه سیتی

هـ) زیست بوم شناسی ۱/۵ نمره

- ۱- درختان بانو باب از گونه های گیاهی مشهور کدام زیست بوم است؟
- ۲- بخش عمده ای از این زیست بوم در مجاورت مدار راس السرطان و راس الجدی واقع شده است؟
- ۳- این زیست بوم در حاشیه اقیانوس منجمد شمالی واقع شده است؟
- ۴- کدام زیست بوم از نظر تنوع جانوری بسیار غنی است؟
- ۵- کدام زیست بوم به داشتن درختان کاج و سرو معروف است؟
- ۶- این زیست بوم بیشترین تنوع زیستی جهان را دارد؟

ن) مختصات جغرافیایی نقاط زیر را مشخص کنید. ۱ نمره

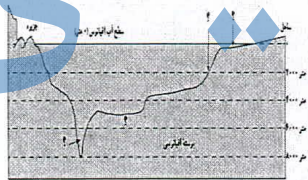
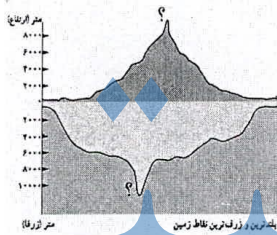


A نقطه

B نقطه

م) شکل های زیر را با دقت کامل کنید.

بلندترین و ژرف ترین نقاط کره زمین؟ ۰/۵



ناهمواری های کف اقیانوس ها را نام ببرید؟ ۱ نمره

ل) متن زیر را بخوانید و به سوالات پاسخ دهید. ۱/۵

شاخص توسعه انسانی برای پی بردن به وضعیت و کیفیت زندگی در کشور ها و مقایسه آنها با یکدیگر مطرح شده است.

۱- در شاخص توسعه انسانی چه مواردی اندازه گیری می شود؟ ۰/۷۵

۲- هر کدام از شاخص های توسعه انسانی با توجه به چه عواملی تعریف می شوند؟ ۰/۷۵